

第九周全能测试卷

6 的乘法口诀

时间:60 分钟


满分:100 分

| 题号 | 一 | 二 | 三 | 四 | 五 | 六 | 七 | 八 | 总分 |
|----|---|---|---|---|---|---|---|---|----|
| 得分 | | | | | | | | | |

kàn tú tián kòng

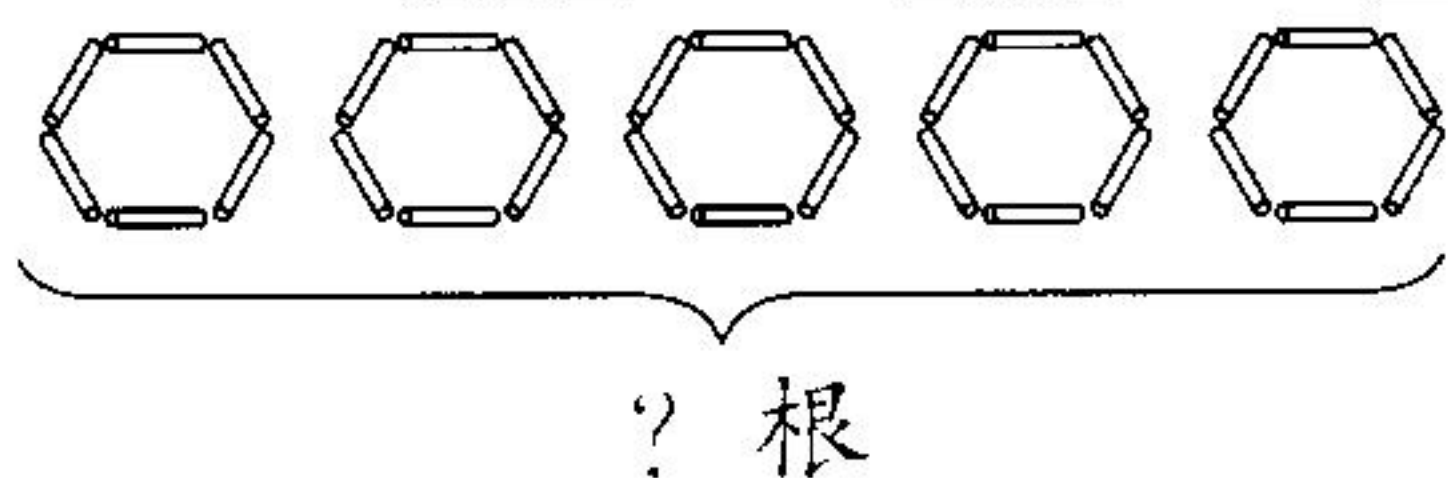
一、看图填空。(4 分)

1.



$$\begin{array}{ccc} \square & \times & \square = \square \\ \square & \times & \square = \square \end{array}$$

2.



$$\begin{array}{ccc} \square & \times & \square = \square \\ \square & \times & \square = \square \end{array}$$

kāi dòng nǎo jīn rèn zhēn tián kòng

二、开动脑筋,认真填空。(10 分)

- 一个汉堡 6 元,4 个汉堡()元钱,6 个汉堡()元钱。
- 根据“三六十八”写出的两个乘法算式是(), ()。
- $6+6+6+6-6-6$ 表示()个 6 减去()个 6 等于()个 6。
- 摆一个六边形用()根小棒,摆三个六边形用()根小棒,摆五个六边形用()根小棒。

5. 在 里填上适当的数。

$$\square \times 3 = 18$$

$$4 \times \square = 20 + 4$$

$$6 \times 5 = \square$$

$$1 \times \square < 6$$

xiān bǎ chéng fǎ kǒu jué xiě wán zhěng zài xiě chū chéng fǎ suàn shì
三、先把乘法口诀写完整，再写出乘法算式。

(12 分)

()二十四 ()十八 五六() 二()十二

zài lǐ tián shàng huò
四、在 里填上 “+” “-” 或 “×” (12 分)

$$4 \bigcirc 6 = 10$$

$$6 \bigcirc 4 = 2$$

$$6 \bigcirc 4 = 24$$

$$2 \bigcirc 3 = 6$$

$$2 \bigcirc 5 = 10$$

$$2 \bigcirc 6 = 8$$

nài xīn shěn tí zǐ xì jì suàn
五、耐心审题，仔细计算。(12 分)

$$6 \times 4 =$$

$$4 \times 6 =$$

$$5 \times 6 =$$

$$6 \times 5 =$$

$$3 \times 6 =$$

$$6 \times 2 =$$

$$6 \times 4 + 6 =$$

$$6 \times 1 + 5 =$$

$$6 \times 5 - 6 =$$

zài lǐ tián shàng huò
六、在 里填上 “>” “<” 或 “=”。(12 分)

$$3 \times 6 \bigcirc 4 \times 5$$

$$2 \times 6 \bigcirc 3 \times 4$$

$$2 \times 6 + 8 \bigcirc 20$$

$$4 \times 4 \bigcirc 6 \times 6$$

$$5 + 4 \bigcirc 3 \times 3$$

$$4 \times 6 - 4 \bigcirc 18$$

zǒu jìn shēng huó jiě jué wèn tí

七、走进生活，解决问题。（共26分）

1. (9分)



3元



6元



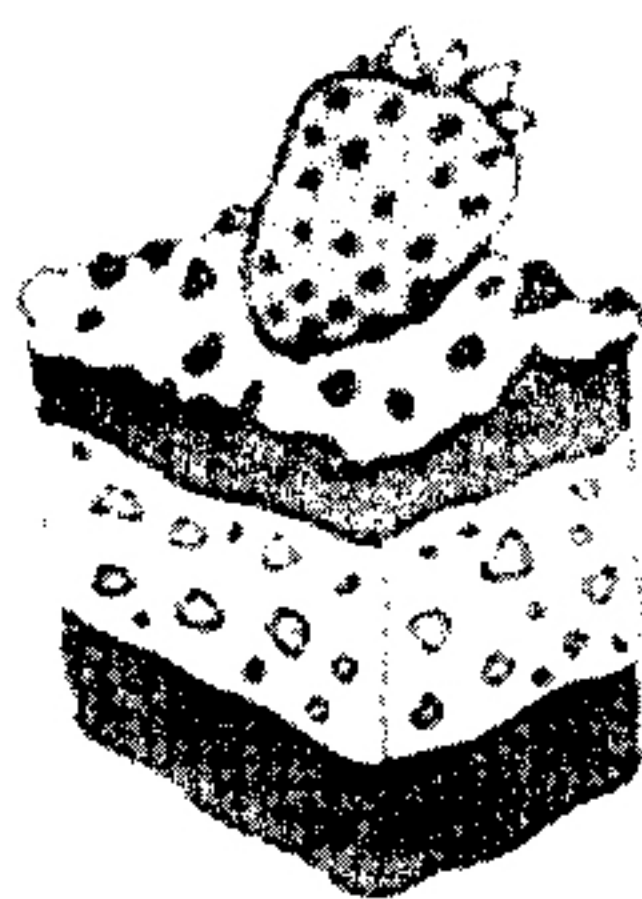

5元

(1) 买6条围巾要多少钱？

(2) 买4顶帽子要多少钱？

(3) 买6个水杯要多少钱？

2. (5分)



(1) 每个蛋糕6元钱，奶奶买了5个蛋糕，一共需要多少钱？

(2) 买蛋糕的钱比买5瓶牛奶的钱多10元，买牛奶花了多少钱？

3. (6分)



6元/本

我有30元钱。

刘丽



(1) 刘丽要买6本《格林童话》，钱够吗？

(2) 刘丽最多可以买几本《格林童话》？

4. 每只小蜜蜂有6条腿，4只小蜜蜂一共有多少条腿？(6分)

zhì huì kè táng

八、智慧课堂。(12分)

下面有()个梨子，要把梨子放在4个篮子里面，每个篮子放4个梨子，放得下吗？

